

## GENEL KÜLTÜR

1.

- I. Madencilik
- II. Dokumacılık
- III. Mimarlık

Yukarıdakilerden hangileriyle ilgili buluntular, Türklerin İslamiyet'i kabul etmelerinden önce, yerleşik hayata geçmiş olduklarının kanıtı olabilir?

- A) Yalnız I      B) Yalnız II      C) Yalnız III  
D) I ve II      E) I, II ve III

2. Anadolu Selçuklu Devleti'nde, Moğol istilası yüzünden düzen bozulunca iktâ arazileri mülk hâline getirilmiştir.

**Bu gelişmenin,**

- I. ordu düzeninin bozulması,
- II. topraksız kalan askerlerin huzursuzluk çıkarması,
- III. devletin toprak üzerinde denetiminin artması

**durumlarından hangilerine ortam hazırladığı savunulabilir?**

- A) Yalnız I      B) Yalnız II      C) Yalnız III  
D) I ve II      E) I, II ve III

3. Osmanlı Dönemi'nde,

- I. İstanbul,
- II. İznik,
- III. Kütahya,
- IV. İzmir

**şehirlere hangileri önemli çini üretim merkezi haline gelmiştir?**

- A) I ve III      B) II ve III      C) I, II ve III  
D) I, II ve IV      E) I, III ve IV

4. Osmanlı Devleti'nde,

- I. Nizam-ı Cedid'in kurulması,
- II. Eşkinî Ocağı'nın kurulması,
- III. Yeniçeri'nin kaldırılması,

**gelişmelerinden hangileri III. Selim Döneminde gerçekleşmiştir?**

- A) Yalnız I      B) Yalnız II      C) I ve II  
D) II ve III      E) I, II ve III

5. II. Mahmut Dönemi'nde gerçekleşen aşağıdaki olaylardan hangisi ülke içindeki üretimi artırmaya yöneliktir?

- A) Posta teşkilatının kurulması
- B) İlk nüfus sayımının yapılması
- C) Yerli malı kullanımının teşvik edilmesi
- D) Yeniçeri Ocağı'nın kaldırılması
- E) İlköğretimin zorunlu hale getirilmesi

6. Enderun Mektebi, aşağıdaki Osmanlı padişahlarından hangisi döneminde devlet adamı yetiştiren kurum haline gelmiştir?

- A) Yavuz Sultan Selim
- B) Fatih Sultan Mehmet
- C) IV. Murat
- D) Orhan Bey
- E) Genç Osman

7. I. I. Meşrutiyet  
II. 31 Mart olayı  
III. Bab-ı Ali Baskını

Osmanlı Devleti'nde yukarıdaki gelişmelerden hangileri yönetim biçimini değiştirmeye yöneliktir?

- A) Yalnız I
- B) Yalnız II
- C) Yalnız III
- D) I ve II
- E) I ve III

8. Osmanlı Devleti, Arnavutluk'u hangi savaş sırasında kaybetmiştir?

- A) I. Dünya Savaşı
- B) I. Balkan Savaşı
- C) Trablusgarp Savaşı
- D) II. Balkan Savaşı
- E) II. Dünya Savaşı

9.

- I. Yugoslavya
- II. Macaristan
- III. Çekoslovakya

Birinci Dünya Savaşı'ndan sonra Avusturya, imzaladığı Saint-Germain Anlaşması'yla yukarıdakilerden hangilerinin bağımsızlığını tanımıştır?

- A) Yalnız I
- B) Yalnız II
- C) Yalnız III
- D) I ve II
- E) I, II ve III

10.

- I. Kutülamare
- II. Sarıkamış
- III. Kanal

Osmanlı Devleti I. Dünya Savaşı sırasında yukarıdakilerden hangilerinde başarı sağlamıştır?

- A) Yalnız I
- B) Yalnız II
- C) Yalnız III
- D) I ve II
- E) I, II ve III

11.

- I. Sivas Kongresi
- II. Balıkesir Kongresi
- III. Amasya Görüşmeleri

Yukarıdaki gelişmelerden hangilerinin sonucunda Damat Ferit Paşa Hükümeti istifa etmiştir?

- A) Yalnız I
- B) Yalnız II
- C) Yalnız III
- D) I ve III
- E) II ve III

12. Aşağıdakilerden hangisinin demokratik bir uygulama olduğu savunulamaz?

- A) Seçme ve seçilme hakkının tüm vatandaşlara ait olması
- B) Meclis yetkilerinin hükümetin üstünde olması
- C) Devletin, resmi bir dinin olması
- D) Milletvekillerinin belli bir süre için seçilmesi
- E) Milletvekillerini halkın doğrudan seçmesi

13.

- I. Tesanüt
- II. İstiklal
- III. Felah-ı Vatan

Yukarıdaki gruplardan hangileri ilk TBMM'de oluşmuştur?

- A) Yalnız I
- B) Yalnız II
- C) Yalnız III
- D) I ve II
- E) I, II ve III

14.

- I. Fransızların Anadolu'dan çekilmesi
- II. Kars Antlaşması'nın yapılması
- III. Çerkez Ethem Ayaklanması'nın bastırılması

Yukarıdakilerden hangileri Sakarya Savaşı sonucunda gerçekleşmiştir?

- A) Yalnız I
- B) Yalnız II
- C) Yalnız III
- D) I ve II
- E) I ve III

15. Sivas Kongresi'nin,

- I. İstanbul Hükümeti'nin istememesine rağmen toplanması,
- II. başkanlığına görev ve memuriyetten azledilen Mustafa Kemal'in seçilmesi,
- III. Amasya Görüşmeleri'nden önce gerçekleşmesi

özelliklerinden hangileri, çalışmaların yürütülmesinde kararlı olduğunun göstergesidir?

- A) Yalnız I
- B) Yalnız II
- C) Yalnız III
- D) I ve II
- E) I, II ve III

16. Mustafa Kemal 24 Nisan 1920 tarihinde TBMM'ye sunduğu önergede "Meclisin Üstünlüğü" maddesine yer vermiştir.

Bu öneriyle,

- I. milletvekili sayısının belirlenmesi,
- II. Meclisin ülke yönetimini üstlenmesi,
- III. ülkenin kurtuluşunun milletçe sağlanması ve korunması

durumlarından hangilerini gerçekleştirmeyi amaçladığı savunulabilir?

- A) Yalnız I      B) Yalnız II      C) Yalnız III  
D) I ve II      E) II ve III

18. Kurtuluş Savaşı'nda;

- I. İrade-i Milliye,
- II. Anadolu Ajansı,
- III. Hakimiyet-i Milliye,

gibi basın-yayın organlarından hangilerinin ulusal savaşı desteklediği söylenebilir?

- A) Yalnız II      B) I ve II      C) I ve III  
D) II ve III      E) I, II ve III

19. Aşağıdakilerden hangisi Milli Mücadele'de belirlenen Misak-ı Milli sınırları içinde yer almaz?

- A) Kars, Ardahan, Batum
- B) Kırım
- C) Artvin
- D) Musul
- E) Hatay

17. 1923 yılında, 1921 Anayasası'nda değişiklik yapılması gereğini, aşağıdakilerden hangisi zorunlu hâle getirmiştir?

- A) İki dereceli seçim sisteminin uygulanması
- B) Saltanatın kaldırılması
- C) Osmanlı hanedanının yurt dışına çıkarılması
- D) Milletvekillerinin yemin şeklinin değiştirilmesi
- E) Bakanlar Kurulu'nun oluşturulma yöntemi

20. Kurtuluş Savaşı'nda, Yunanistan'ın Londra Konferansı sırasında İzmir'e asker yığması ve Trakya'daki kuvvetlerini Anadolu'ya geçirecek saldırıya hazır hâle getirmesindeki amacın aşağıdakilerden hangisi olduğu savunulabilir?

- A) TBMM'nin Konferans'a çağrılmasını önlemek.
- B) TBMM ile İstanbul Hükümeti'nin Konferans'ta birlikte hareket etmesini engellemek.
- C) İtalya'nın Batı Anadolu'daki işgal girişimlerini geciktirmek.
- D) Konferans'ta İstanbul Hükümeti'ne karşı güvensizlik yaratmak.
- E) Konferans'ta daha güçlü söz sahibi olmak.

21. Sevr Antlaşması'na göre azınlıkların,

- I. kilise, okul gibi kurumları üzerindeki devlet denetiminin tamamen kaldırılması,
- II. Mebuslar Meclisi'nde yeterince temsil edilebilmeleri için yeni bir seçim yasaının hazırlanması,
- III. savaşlar ya da başka nedenlerle yerlerinden ayrılmış olanlarının geri dönebilmesi

hükümlerinden hangilerinin Osmanlı Devleti'nin parçalanmasında etkili olduğu savunulabilir?

- A) Yalnız I      B) Yalnız II      C) Yalnız III  
D) I ve II      E) I, II ve III

22.

- I. Boğazlar
- II. Kapitülasyonlar
- III. Borçlar

Sovyet Rusya, Lozan Konferansı'na yukarıdaki konulardan hangileriyle ilgili olarak katılmıştır?

- A) Yalnız I      B) Yalnız II      C) Yalnız III  
D) I ve II      E) I, II ve III

23. Aşağıdaki gelişmelerden hangisi Teşkilat – ı Esasiye Kanunu'nun özelliklerinden biri değildir?

- A) Ulusal egemenliği kabul etmesi
- B) TBMM'nin üstünlüğünü tanınması
- C) Güçler birliğine sahip olması
- D) Saltanat ve hilafetin devamından yana olması
- E) Meclis üyelerinin seçimle belirlenmesini savunması

24. Kurtuluş Savaşı Dönemi'nde, Türkiye'ye bırakılan;

- I. Bozcaada,
- II. Doğu Trakya,
- III. Karaağaç,
- IV. İstanbul

yerlerden hangileri Mudanya Ateşkes Antlaşması'yla savaş yapılmadan Türkiye sınırları içine katılmıştır?

- A) Yalnız II      B) Yalnız III      C) II ve IV  
D) I, II ve IV      E) II, III ve IV

25. Aşağıdakilerden hangisi Kurtuluş Savaşı Dönemi'nde imzalanan Gümrü Antlaşması'nın özelliklerinden biri değildir?

- A) TBMM'nin ilk uluslararası siyasi zaferi olması
- B) Kurtuluş Savaşı'nda Güney Cephesi'nin açılmasına neden olması
- C) Kurtuluş Savaşı'nda Doğu Cephesi'nin kapatılmasını sağlaması
- D) Kars ve dolaylarının geri alınması
- E) Sevr Antlaşması'nın Ermenilere tanıdığı hakları geçersiz kılması

26.

- I. Uluslararası saat ve takvimin kabul edilmesi
- II. Soyadı Kanunu'nun kabul edilmesi
- III. Tekke zaviye ve türbelerin kapatılması

Yukarıdaki inkılaplardan hangilerinin, dini duyguların sömürülmesini önlemek amacıyla yönelik olduğu savunulabilir?

- A) Yalnız I      B) Yalnız II      C) Yalnız III  
D) I ve II      E) I, II ve III

27.

- I. Millet Mektepleri
- II. Yabancı okullar
- III. Medreseler

**Yukarıdaki eğitim- öğretim kurumlarından hangileri farklı programlarda öğretim yapılmasını önlemek amacıyla kapatılmıştır?**

- A) Yalnız I
- B) Yalnız II
- C) Yalnız III
- D) I ve II
- E) I, II ve III

28.

- I. Türkiye-Suriye sınırının kesinleşmesi
- II. Fransız şirketince işletilen Adana-Mersin demir yollarının satın alınması
- III. Yabancı ticaret kuruluşlarına Türk yasalarına uyma zorunluluğu getirilmesi

**Yukarıdaki gelişmelerden hangileri Atatürk Dönemi'nde gerçekleştirilmiştir?**

- A) Yalnız I
- B) Yalnız II
- C) Yalnız III
- D) I ve II
- E) II ve III

29. Balkan Antantı'nın imzalanmasında,

- I. İngiltere,
- II. İtalya,
- III. Almanya

**devletlerinden hangilerinin 1933 yılından sonra güçlenmeye ve yayılmaya başlamasının etkili olduğu savunulabilir?**

- A) Yalnız I
- B) Yalnız II
- C) Yalnız III
- D) I ve II
- E) II ve III

30. Aşağıdaki ilkelerden hangisi, Türk toplumunun yenileşme ihtiyacının doğrudan bir sonucudur?

- A) Milliyetçilik
- B) Devletçilik
- C) İnkılapçılık
- D) Halkçılık
- E) Cumhuriyetçilik

31. Aşağıda Türkiye'deki beş coğrafi bölgenin bazı özellikleri verilmiştir.

**Bu özelliklerden hangisi o bölgenin matematik konumuyla açıklanabilir?**

- A) Ege Bölgesi'nde güneyden kuzeye gidildikçe yıllık sıcaklık ortalamasının düşmesi
- B) Karadeniz Bölgesi'nde yayla turizminin gelişmiş olması
- C) Marmara Bölgesi'nde Karadeniz iklimiyle Akdeniz iklimi arasında bir geçiş iklimi görülmesi
- D) Doğu Anadolu Bölgesi'nde yazların kısa, kışların uzun ve kar yağışlı geçmesi
- E) İç Anadolu Bölgesi'nde tarımsal ürün çeşidinin az olması

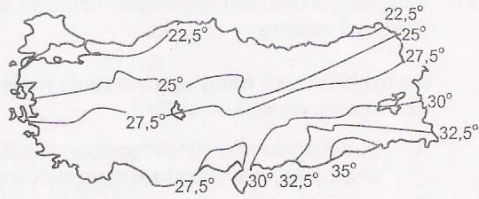
32. Türkiye'nin aşağıda verilen özelliklerinden hangisi diğer dördünün nedeni olarak gösterilebilir?

- A) Kısa mesafelerde iklim değişiklikleri olması
- B) Yol yapım masraflarının fazla olması
- C) Yerçekillerinin engebeli olması
- D) Gerçek alan ile izdüşüm alan arasındaki farkın fazla olması
- E) Aynı anda farklı mevsim özelliklerinin görülmesi

33. Yerçekilleri özellikleri düşünüldüğünde aşağıdaki akarsulardan hangisinin yatağı boyunca aşındırma şekillerine daha fazla rastlanır?

A) Gediz B) Susurluk C) Bakırçay  
D) Çoruh E) Sakarya

34. Aşağıda Türkiye Temmuz ayı indirgenmiş sıcaklık ortalamalarının dağılışı gösterilmiştir.



Haritadaki bilgilere göre aşağıdakilerden hangisi söylenebilir?

- A) Aynı enlem üzerindeki noktaların sıcaklıkları aynıdır  
B) Karadeniz kıyıları Akdeniz kıyılarından sıcaktır  
C) Doğu Karadeniz kıyıları İç Anadolu'dan sıcaktır  
D) En sıcak yerler Ege kıyılarıdır  
E) Sıcaklıklar genel olarak kuzeye doğru azalır

35. Aşağıdakilerden hangisinin Türkiye ekonomisindeki payı diğer yerlerde üretilenlerden daha azdır?

A) Malatya'da üretilen kayısı  
B) Mersin'de üretilen muz  
C) Iğdır'da üretilen pamuk  
D) Afyonkarahisar'da üretilen haşhaş  
E) İzmir'de üretilen üzüm

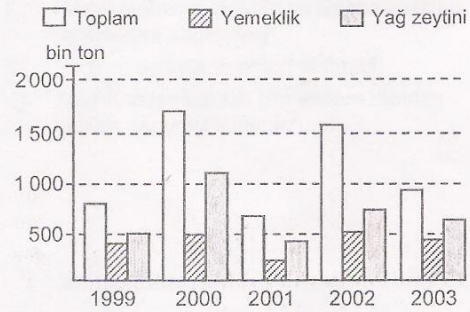
- 36.

- I. Barajlardaki su seviyesi azalır  
II. Tarımsal verim azalır  
III. Orman yangınları artar

Türkiye'de şiddetli yaz kuraklığının yaşandığı bir yılda yukarıdakilerden hangileri söylenebilir?

A) Yalnız I B) Yalnız II C) Yalnız III  
D) I ve II E) I, II ve III

37. Aşağıdaki grafikte Türkiye'de toplam, yemeklik ve yağ zeytini üretiminin yıllara göre değişimi gösterilmiştir.



Grafikteki bilgilere göre aşağıdakilerden hangisi yanlıştır?

- A) Toplam zeytin üretimi bir yıl artmış, bir yıl azalmıştır.  
B) Yağ zeytini üretimi en fazla 2000 yılında olmuştur.  
C) Yemeklik zeytin üretimi 500 bin tonu geçmemiştir.  
D) 2000 yılındaki yemeklik zeytin üretimi 2003 yılındaki yağ zeytini üretiminden fazla olmuştur.  
E) Toplam zeytin üretimi 1,5 milyon tonu iki kez geçmiştir.

38. Türkiye’de devletin turizmi desteklemesinin temel amacı aşağıdakilerden hangisidir?
- A) Kentsel nüfus oranını artırmak  
B) Ülkenin doğal ve beşerî güzelliklerini korumak  
C) Dış ticaret açığını kapatmak  
D) Farklı kültürlerden yararlanmak  
E) Ulaşım ağını geliştirmek

39. Türkiye’de kırsal nüfus oranı 1970 yılında % 61 iken 2000 yılında % 35’e düşmüştür.

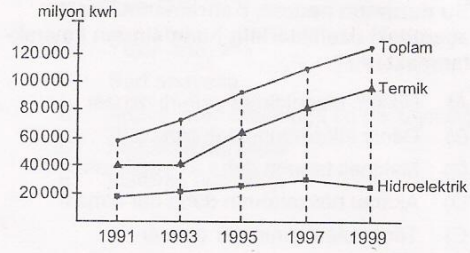
Bu azalma üzerinde aşağıdakilerden hangisinin etkisi en azdır?

- A) Kırsal kesimden kente göçün olması  
B) Tarlaların miras yolu ile parçalanması  
C) Endüstri kuruluşlarının kentlere yakın yerlerde kurulması  
D) Makineli tarımın yaygınlaşması  
E) Doğum oranının düşmesi

40. Çatalca – Kocaeli Bölümü’nün Türkiye ekonomisine katkısı aşağıdaki alanların hangisinde daha azdır?

- A) Hidroelektrik üretimi  
B) Sanayi  
C) Turizm  
D) Ticaret  
E) Liman faaliyetleri

41. Aşağıdaki grafikte 1991 – 1999 yılları arasında Türkiye’nin toplam elektrik enerjisi üretiminde termik ve hidroelektrik enerji üretimlerinin payları gösterilmiştir.



Grafikteki bilgilere göre aşağıdakilerden hangisi söylenemez?

- A) Toplam elektrik üretimi sürekli artmıştır.  
B) 1999 yılında yağış azlığı nedeniyle hidroelektrik üretimi azalmıştır.  
C) Termik elektrik üretimi her zaman hidroelektrik üretiminden fazla olmuştur.  
D) 1995 yılında termik ve hidroelektrik üretimi bir önceki yıla göre artmıştır.  
E) Toplam elektrik üretiminin en fazla olduğu yılda termik elektrik üretimi de en fazla olmuştur.

42. Aşağıdakilerden hangisi Türkiye’de nüfusun coğrafi dağılışı üzerinde daha az etkilidir?

- A) Yer altı ve yer üstü su kaynaklarının zenginliği  
B) Endüstri kuruluşlarının yoğunluğu  
C) Yüzey şekillerinin çeşitliliği  
D) Küçükbaş hayvancılığın yaygınlığı  
E) İklim koşullarının elverişliliği



43. Akdeniz Bölgesi'nde Adana ve Kahramanmaraş çevrelerinde yetiştirilen tarım ürünleri arasında farklılıklar vardır

**Bu durumun nedeni, Kahramanmaraş'ın aşağıdaki özelliklerinin hangisinden kaynaklanmaktadır?**

- A) Ulaşım olanaklarının sınırlı olması
- B) Deniz etkisinden uzak olması
- C) Makineli tarımın daha az yapılması
- D) Akarsu havzalarının daha dar olması
- E) Tarım alanlarının dar olması

44. Aşağıdakilerden hangisi Türkiye'nin en fazla göç veren yerlerinin ortak özelliklerinden değildir?

- A) İklim şartlarının elverişsiz olması
- B) Yerçekillerinin engebeli olması
- C) Sanayinin gelişmemiş olması
- D) İş olanaklarının az olması
- E) Nüfus yoğunluğunun fazla olması

45. Aşağıdakilerden hangisi Türkiye'de turizmin gelişmesinin nedenlerinden değildir?

- A) İklim şartlarının uygun olması
- B) Otel ve konaklama tesislerinin fiyatları
- C) Maden bakımından zengin olması
- D) Tarihi eserlerin fazla olması
- E) Doğal güzelliklerin fazla olması

46. Aşağıda verilen şehirlerden hangileri arası-  
na yapılacak karayolunun birim maliyeti da-  
ha fazla olur?

- A) Ankara ile Konya
- B) İstanbul ile Edirne
- C) Bursa ile Balıkesir
- D) Gaziantep ile Şanlıurfa
- E) Rize ile Erzurum

47. Doğu Karadeniz kıyılarında dağınık yerleş-  
melerin yaygın olmasının temel nedeni aşağı-  
dakilerden hangisidir?

- A) Bitki örtüsünün gür olması
- B) Nüfus yoğunluğunun fazla olması
- C) Toprakların verimli olması
- D) Yerçekillerinin engebeli olması
- E) Çay, fındık, mısır tarımının yaygın olması

48. Aşağıdakilerden hangisinin Batı Karadeniz  
Bölümü'nün ekonomisine katkısı yoktur?

- A) Maden çıkarımı
- B) Ormancılık
- C) Demir – çelik sanayi
- D) Petrol rafinerisi
- E) Tarım

49.

- I. Kişinin ergin olması
- II. Kişinin ayırt etme gücüne sahip olması
- III. Kişi hakkında mahkemece verilmiş bir kısıtlama kararının bulunmaması

**Fiil ehliyetine sahip olabilmek için bir kişinin yukarıdaki şartlardan hangisine ya da hangilerine sahip olması gerekir?**

- A) Yalnız I
- B) Yalnız II
- C) I ve II
- D) II ve III
- E) I, II ve III

51. Anayasanın bir devletin hukuk kuralları içinde en yüksek hukuk kuralı olması, hiçbir kimsenin ve organın kaynağını anayasadan almayan bir devlet yetkisi kullanamamasına ne ad verilir?

- A) Yazılı anayasa
- B) Sert anayasa
- C) Anayasanın üstünlüğü ve bağlayıcılığı
- D) Kazuistik anayasa
- E) İdarenin bütünlüğü

52. "Türkiye Devletine vatandaşlık bağı ile bağlı olan herkes Türk'tür." ifadesi ile aşağıdaki anayasa ilkelerinden hangisinin tanımı verilmiştir?

- A) Atatürk Milliyetçiliği
- B) Laik Devlet
- C) Sosyal Devlet
- D) Hukuk Devleti
- E) Demokratik Devlet

50. Aşağıdakilerden hangisi meclis hükümeti sisteminin özelliklerinden biridir?

- A) Yasama ve yürütme kuvvetleri yürütme organında birleşmiştir
- B) Yasama ve yürütme kuvvetleri birbirinden kesin bir biçimde ayrılmıştır
- C) Kuvvetler ayrılığı ilkesinin esnek bir biçimde uygulandığı bir sistemdir
- D) Yasama ve yürütme kuvvetleri yasama organında birleşmiştir
- E) Yürütme organı, yasama organının hukuki varlığına son verebilir

53. 1982 Anayasasına göre aşağıdaki hallerden hangisinde temel hak ve hürriyetlerin kullanılması kısmen veya tamamen durdurulmaz?

- A) Olağanüstü hal
- B) Sıkıyönetim
- C) Seferberlik
- D) Savaş
- E) Seçim

54. 1982 Anayasasına göre hastalık, yurt dışına çıkma, ölüm gibi durumlarda aşağıdakilerden hangisi Cumhurbaşkanına vekalet eder?

- A) Başbakan
- B) Başbakan Yardımcısı
- C) Meclis Başkanı
- D) Genelkurmay Başkanı
- E) Cumhurbaşkanı Genel Sekreteri

55. Aşağıdakilerden hangisi kanunların, kanun hükmünde kararname, TBMM içtüzüğü'nün şekil ve esas bakımından anayasaya aykırılığı iddiasıyla Anayasa Mahkemesinde doğrudan doğruya iptal davası açabilme hakkına sahip değildir?

- A) Cumhurbaşkanı
- B) Yargıtay Cumhuriyet Başsavcısı
- C) İktidar partisi grubu
- D) Ana muhalefet partisi grubu
- E) Türkiye Büyük Millet Meclisi üye tamsayısının en az beşte biri tutarındaki üyeler

56. 1982 Anayasasına göre aşağıdakilerden hangisi mahalli (yerel) idare değildir?

- A) Ankara İl Özel İdaresi
- B) Beşiktaş Belediyesi
- C) Güzelyurt Köyü
- D) Antalya Büyükşehir Belediyesi
- E) Çankaya Kaymaklığı

57. Kanunun uygulanmasını göstermek veya emrettiği işleri belirtmek üzere, kanunlara aykırı olmamak ve Danıştay'ın incelemesinden geçirilmek şartıyla Bakanlar Kurulu tarafından çıkarılan hukuk kurallarına ne ad verilir?

- A) Yönetmelik
- B) Tüzük
- C) Kanun Hükmünde Kararname
- D) Bakanlar Kurulu Kararnamesi
- E) Genelge

58. Ocak 2007 tarihinde Kofi Annan'dan Birleşmiş Milletler Genel Sekreterliği görevini aşağıdakilerden hangisi devralmıştır?

- A) Ban Ki-moon
- B) Boutros Gallı
- C) Javier Pérez de Cuéllar
- D) Kurt Josef Waldheim
- E) U Thant

59. İtalya'nın Milano şehrinde yapılacak olan EXPO 2015 organizasyonu aşağıdakilerden hangisi tarafından düzenlenmektedir?

- A) WHO
- B) BIE
- C) NATO
- D) Birleşmiş Milletler
- E) IMF

60. Avrupa Topluluğu üyesi beş ülke arasındaki sınır kapılarını ve gümrük kontrollerini ortadan kaldırmak için imzalanan "Schengen Antlaşması"nda imzası bulunmayan devlet, aşağıdakilerden hangisidir?

- A) Lüksemburg
- B) Hollanda
- C) Belçika
- D) Almanya
- E) İngiltere

# DENEME 3

## Genel Yetenek YANIT ANAHTARI

1.	E	21.	B	41.	C
2.	C	22.	D	42.	E
3.	A	23.	B	43.	B
4.	B	24.	E	44.	A
5.	E	25.	E	45.	D
6.	D	26.	A	46.	A
7.	D	27.	C	47.	E
8.	B	28.	E	48.	D
9.	A	29.	E	49.	C
10.	D	30.	B	50.	E
11.	C	31.	C	51.	E
12.	A	32.	C	52.	B
13.	A	33.	D	53.	A
14.	E	34.	D	54.	E
15.	C	35.	C	55.	D
16.	B	36.	D	56.	E
17.	B	37.	A	57.	E
18.	D	38.	C	58.	A
19.	D	39.	E	59.	D
20.	C	40.	E	60.	A

## Genel Kültür YANIT ANAHTARI

1.	C	21.	E	41.	B
2.	D	22.	A	42.	D
3.	C	23.	D	43.	B
4.	A	24.	C	44.	E
5.	C	25.	B	45.	C
6.	B	26.	C	46.	E
7.	D	27.	C	47.	D
8.	B	28.	E	48.	D
9.	E	29.	E	49.	E
10.	A	30.	C	50.	D
11.	A	31.	A	51.	C
12.	C	32.	C	52.	A
13.	D	33.	D	53.	E
14.	D	34.	E	54.	C
15.	D	35.	C	55.	B
16.	E	36.	E	56.	E
17.	E	37.	D	57.	B
18.	E	38.	C	58.	A
19.	B	39.	E	59.	B
20.	E	40.	A	60.	E