

## GENEL KÜLTÜR

1. İslamiyet'ten önceki Türk devletlerinde,
- Hatun'un kurultaya katılabilmesi
  - Kağan'ın töreye uyma zorunluluğunun olması
  - Ülkenin hanedanın ortak malı sayılması
  - Devlet işlerine ait son sözü kurultayın söylemesi

durumlarından hangileri yönetim özelliklerinden biri değildir?

- A) Yalnız I      B) Yalnız II      C) Yalnız IV  
D) I ve IV      E) I, II ve III

2. Anadolu Selçuklu Devleti'nde, Moğol istilası yüzünden düzen bozulunca ikta arazileri mülk hâline getirilmiştir.

Bu gelişmenin,

- ordu düzeninin bozulması,
- topraksız kalan askerlerin huzursuzluk çıkarması,
- devletin toprak üzerinde denetiminin artması

durumlarından hangilerine ortam hazırladığı savunulabilir?

- A) Yalnız I      B) Yalnız II      C) Yalnız III  
D) I ve II      E) I, II ve III

3. II. Kılıçarslan saltanatının son dönemlerinde ülke topraklarını on bir oğlu arasında paylaştırmıştır.

Buna göre aşağıdaki yargılardan hangisine ulaşamaz?

- A) Siyasi bütünlük bozulmuştur  
B) Selçukluların yönetim anlayışında değişiklik olmuştur.  
C) Merkezi otorite sarsılmıştır  
D) Taht kavgalarına neden olmuştur  
E) Belirli bir veraset sistemi yoktur

4. Aşağıdakilerden hangisi, devşirme sistemiyle toplanan çocuklardan yetenekli olanların Enderun'da eğitilmelerinin öncelikli amaçları arasındadır?

- A) Eğitim giderlerini azaltmak  
B) Devlet için yönetici kadro yetiştirmek  
C) Kapsamlı eğitim vermek  
D) Devlete olan bağlılığı artırmak  
E) Sorumluluk bilinci yüksek bireyler yetiştirmek

5.

- I. Tımarlı Sipahi
- II. Kapıkulu Askeri
- III. Nizam-ı Cedit

**Osmanlı askeri sistemi içinde maaş almayan, tüm gereksinimleri dirlik sahiplerince karşılanan ve genellikle Türklerden oluşan askeri gruplar aşağıdakilerden hangileridir?**

- A) Yalnız I
- B) Yalnız II
- C) Yalnız III
- D) I ve II
- E) II ve III

6.

- I. Coğrafi Keşifler'le yeni ticaret merkezlerinin bulunması
- II. Sanayi Devrimi ile Avrupalı devletlerin hammadde ve pazar arayışının artması
- III. Fransız İhtilali ile ulus – devlet anlayışının yaygınlaşması

**Avrupa'da yaşanan yukarıdaki gelişmelerden hangilerinin doğrudan Osmanlı ekonomisini olumsuz yönde etkilediği söylenebilir?**

- A) Yalnız II
- B) I ve II
- C) I ve III
- D) II ve III
- E) I, II ve III

7. Tanzimat Dönemi'nde,

- I. kızların okula alınması,
- II. Osmanlı Bankası'nın kurulması,
- III. Egemenliğin ulusa geçmesi

**durumlarından hangilerinin gerçekleştiği savunulamaz?**

- A) Yalnız I
- B) Yalnız II
- C) Yalnız III
- D) I ve II
- E) I ve III

8. Aşağıdaki gelişmelerden hangisinin XIX. yüzyıl Osmanlısı'nda yaşandığı söylenemez?

- A) Askerliğin vatan hizmeti haline getirilmesi
- B) Ziraat Bankası'nın kurulması
- C) İlk esnaf teşkilatlarının kurulması
- D) Yeniçeri Ocağı'nın varlığına son verilmesi
- E) Memuriyetlerin, dahiliye ve hariciye olarak ikiye ayrılması

9.

- I. Eğitimde ikilliliğin ortaya çıkması
- II. Medreselerde beşik ulemalığı sisteminin ortaya çıkması
- III. Medreselerde pozitif bilimlerin önemini yitirmeye başlaması

**Yukarıdakilerden hangileri II. Mahmut Döneminde medreselerin yanında batı tarzındaki okulların açılmasının sonuçlarındanıdır?**

- A) Yalnız I
- B) Yalnız II
- C) Yalnız III
- D) I ve II
- E) I, II ve III

10. Aşağıdakilerden hangisi, Birinci Dünya Savaşı'nda, İngilizleri Mısır'da oyalamak ve onların Asya ve Okyanustaki sömürgeleriyle ilişkisini kesebilmek amacıyla yapılmıştır?

- A) Kanal Harekâtı
- B) Rusya ile antlaşma imzalanması
- C) Kafkasya'da cephe açılması
- D) Conkbayırı ve Anafartalar savunması
- E) Amerika Birleşik Devletleri'nin savaşa girmesi



16. I. İnönü Savaşı'ndan sonra toplanan Londra Konferansı'na TBMM Hükümeti'nin, İtilaf Devletleri'nce ayrı şekilde konferansa çağrılmadıkları takdirde katılmayacağını belirtmesi aşağıdaki hangi amaca yöneliktir?

- A) TBMM'nin halkın gücüyle kurulduğuna
- B) TBMM'nin kendini hukuki yönden tanıtmaya zorladığına
- C) Sevr Antlaşması'nı kabul etmeyeceklerine
- D) Fransa ve İtalya'nın desteğini almak istediklerine
- E) TBMM Hükümeti'nin konferansı küçümsemediğine

17.

- I. Mustafa Kemal'e Başkomutanlık yetkisinin verilmesi
- II. Tekâlif-i Milliye Emirleri'nin yayınlanması
- III. Çerkez Ethem Ayaklanması'nın bastırılması

Yukarıdaki gelişmelerden hangileri Sakarya Savaşı'na hazırlık niteliği taşımaktadır?

- A) Yalnız I
- B) Yalnız II
- C) Yalnız III
- D) I ve II
- E) I, II ve III

18. Aşağıdakilerden hangisi, Mudanya Ateşkes Antlaşmasına ortam hazırlayan nedenlerden biri değildir?

- A) Yunanistan'ın Türk ordusu karşısında yenilmesi
- B) İngiltere Hükümeti'nin Türkiye ile yeni bir savaş olasılığı karşısında yalnız kalması
- C) İngiltere dominyonların savaştan bıkmaması
- D) Mustafa Kemal'in diplomatik çabaları
- E) Fransa ve İtalya'nın Türklere karşı yeniden savaşa gireceği düşüncesi

19. Lozan Barış Görüşmeleri'nde Fransa ve İngiltere temsilcilerinin kapitülasyonların kaldırılmak istenmesine şiddetle karşı çıkmaları aşağıdakilerden hangisinin göstergesidir?

- A) Azınlıklar aracılığı ile yönetimde etkili olmak istediklerinin
- B) Anadolu'daki ekonomik çıkarlarını korumaya çalıştıklarının
- C) Türk sanayisine katkıda bulduklarının
- D) Osmanlı Devleti'nin devamından yana olduklarının
- E) Türkiye'nin görüşmelerden çekilmesini istemediklerinin

20. 1945'de Türkiye'de çok partili hayata geçmesinde en büyük etken aşağıdakilerden hangisidir?

- A) Mecliste bağımsız bir grubun oluşması
- B) Tek parti yönetiminin iç ve dış sorunları çözmede yetersiz olması
- C) Halkın, Atatürk Devrimlerini benimsemiş olması
- D) Birleşmiş Milletlerin tek partili yönetimleri kabul etmemesi
- E) Anayasa'nın yeni partiler kurmaya uygun olması

21. II. TBMM'nin Halifeliği kaldırmasıyla,

- I. toplumsal alandaki inkılâpların hızlanması,
- II. Cumhuriyet rejimine yönelik tartışmaların engellenmesi,
- III. Ümmet toplumundan ulus toplumuna geçişin kolaylaşması

sonuçlarından hangilerine ulaşıldığı savunulabilir?

- A) Yalnız I
- B) Yalnız II
- C) Yalnız III
- D) II ve III
- E) I, II ve III

22.

- I. Etibank
- II. Maden Tetkik Arama Enstitüsü
- III. Sümerbank

**Yukarıdakilerden hangileri sanayi ve madencilik alanında gelişmeye yönelik olarak açılmıştır?**

- A) Yalnız I      B) Yalnız II      C) Yalnız III  
D) I ve II      E) I, II ve III

23.

- I. Yabancıların elindeki iktisadî kuruluşların satın alınması
- II. İzmir'de İktisat Kongresi'nin toplanması
- III. Ülkeyle ilgili sayısal bilgileri toplayan, derleyen ve kullanan Devlet İstatistik Enstitüsü'nün kurulması

**Yukarıdaki gelişmelerden hangilerinde ulusallaştırma amacı olduğu savunulur?**

- A) Yalnız I      B) Yalnız II  
C) Yalnız III      D) I ve III  
E) I, II ve III

24.

- I. İlk Dil Kurultayı'nın toplanması
- II. "Genel Tarih" adı ile 4 cilt eser yayımlanması
- III. İlk modern nüfus sayımının yapılması

**Yukarıda verilenlerden hangileri Atatürk Dönemi gelişmeleri arasında gösterilebilir?**

- A) Yalnız II      B) Yalnız III  
C) I ve II      D) I ve III  
E) I, II ve III

25. "Türklük esastır. Bu mevcudiyeti tarih içinde araştırmak birbirini izleyen bir tarih zinciri içinde tespit edilecek Türk medeniyeti ile övünmek yerinde olur. Ancak bu övünmeye layık olmak için bugün çalışmak lazımdır."

**Mustafa Kemal'in yukarıdaki sözleri aşağıdaki çalışmalardan hangisinin dayanağıdır?**

- A) Türk Dil Kurumu'nun açılmasının  
B) Kabotaj Kanunu'nun kabul edilmesinin  
C) Türk Tarihi Tetkik Cemiyeti'nin kurulmasının  
D) İstanbul Üniversitesi'nin kurulmasının  
E) Türk Ocakları'nın açılmasının

26.

- İstiklâl Marşı'nın kabul edilmesi
- Türk Dil Kurumu'nun açılması
- Türk Tarih Kurumu'nun açılması

**Yukarıda sözü edilen yenilikler, aşağıdaki Atatürk ilkelerinden hangisiyle daha çok ilgilidir?**

- A) Milliyetçilik      B) İnkılâpçılık  
C) Lâiklik      D) Cumhuriyetçilik  
E) Halkçılık

27. **Atatürk ilkelerinin 1937 yılında Anayasa'ya alınmasıyla,**

- IV. Devlet yapısının güçlenmesi,
  - V. Millî ihtiyaçların karşılanması,
  - VI. İlkelerin hukukî bir zemine yerleştirilmesi
- sonuçlarından hangilerine ulaşıldığı savunulabilir?**

- A) Yalnız I      B) Yalnız II  
C) Yalnız III      D) I ve II  
E) I ve III

28. Atatürk Dönemi'nde

- I. azınlıklar,
- II. savaş tazminatı,
- III. Patrikhane

gelişmelerinden hangilerinin Türk-Yunan ilişkileri ile ilgili olduğu söylenebilir?

- A) Yalnız I  
B) Yalnız II  
C) I ve II  
D) I ve III  
E) I, II ve III

29.

- Milli sınırlarımız içinde varlığımızı korumak
- Dünyadaki gelişmeleri yakından takip etmek
- Milli politikayı uygularken kamuoyunu dikkate almak

Yeni Türk Devleti'nin dış politikasında esas alınan yukarıdaki prensipler ile;

- I. Bağımsızlık,
- II. Çağdaşlaşma,
- III. Halkçılık

ilkelerinden hangileri arasında ilişki kurmak mümkündür?

- A) Yalnız I  
B) I ve II  
C) I ve III  
D) II ve III  
E) I, II ve III

30. Atatürk 1935 yılındaki bir konuşmasında, "Savaşın ağırlığını göz önüne almayan bazı samimiyetten yoksun önderler, saldırının araçları olmuşlardır. Denetimleri altındaki uluslara ulusçuluğu ve geleneği yanlış bir biçimde göstererek ve kötüye kullanarak onları aldatmışlardır." demiştir.

Atatürk bu sözleriyle hangi ülkelerin politikalarını eleştirmektedir?

- A) Fransa ve İngiltere  
B) ABD ve SSCB  
C) Almanya ve İtalya  
D) Yunanistan ve İspanya  
E) Japonya ve Çin

31.

- Sinop'tan Türkiye'nin en kuzeyindeki paralel geçer
- Hatay'dan, Türkiye'nin en güneyindeki paralel geçer
- Iğdır'dan Türkiye'nin en doğusundaki meridyen geçer
- Çanakkale'den, Türkiye'nin en batısındaki meridyen geçer

Yalnızca yukarıdaki bilgilere göre aşağıdaki-lerden hangisi kesinlikle söylenebilir?

- A) Türkiye'de 21 Haziran'da en uzun gündüz Hatay'da yaşanır  
B) Türkiye'de yazın ortak saat olarak Çanakkale'nin yerel saati kullanılır  
C) Türkiye'de güneşin en geç battığı yer Iğdır'dır  
D) Türkiye'de çizgisel hızın en az olduğu yer Sinop'tur.  
E) Türkiye'nin en kuzeyi ile en güneyi arasında 6 paralel fark vardır

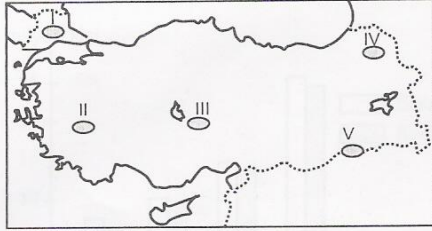
32. Türkiye'nin dağları doğu – batı doğrultusunda uzanmaktadır.



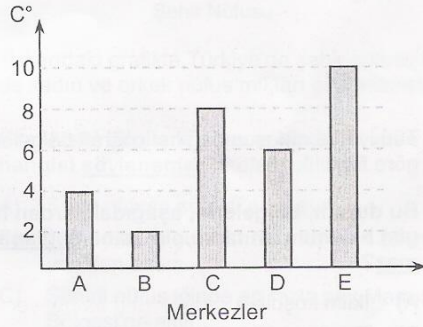
Dağların kuzey – güney doğrultusunda uzandığı düşünülürken aşağıdakilerden hangisi verilen yerlerde meydana gelecek değişikliklerden **değildir**?

- A) İzmir'in hinterlandı daralır.  
B) Sinop'un kıta sahanlığı daralır.  
C) Antalya kıyılarında girinti–çıkıntı artar.  
D) Zonguldak daha işlek bir liman olurdu.  
E) İzmir'de falez oluşumu artardı.

33.



Haritada işaretli merkezlerin gerçek sıcaklıkları ile indirgenmiş sıcaklıkları arasındaki farkları aşağıdaki grafikte verilmiştir.



Buna göre IV. merkezin gerçek sıcaklığı ile indirgenmiş sıcaklığı arasındaki fark grafikteki hangi sütunla gösterilmiştir?

- A) A B) B C) C D) D E) E

34. Aşağıda Türkiye'nin üç coğrafi bölgesine ait bazı iklim özellikleri verilmiştir.

- I. Kış mevsimi soğuk ve uzun geçmektedir.  
II. Bulutlu gün sayısı çok fazladır.  
III. En soğuk ay ortalaması 10 °C civarındadır.

Buna göre, aşağıdakilerden hangisinde bu bölgeler doğru olarak verilmiştir?

- |                 | I            | II        | III          |
|-----------------|--------------|-----------|--------------|
| A) Doğu Anadolu | Akdeniz      | Karadeniz | Karadeniz    |
| B) Akdeniz      | Karadeniz    | Karadeniz | Doğu Anadolu |
| C) Doğu Anadolu | Karadeniz    | Akdeniz   | Akdeniz      |
| D) Karadeniz    | Akdeniz      | Akdeniz   | Doğu Anadolu |
| E) Akdeniz      | Doğu Anadolu | Karadeniz | Karadeniz    |

PEGEMAKADEMİ

35. Aşağıdakilerden hangisinin Türkiye ekonomisindeki payı diğer yerlerde üretilenlerden **daha azdır**?

- A) Malatya'da üretilen kayısı  
B) Mersin'de üretilen muz  
C) Iğdır'da üretilen pamuk  
D) Afyonkarahisar'da üretilen haşhaş  
E) İzmir'de üretilen üzüm

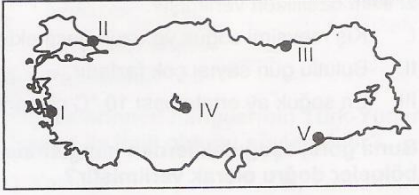
36.

- I. Çay  
II. Bakır  
III. Fındık  
IV. Taş kömürü

Yukarıdaki verilenlerden hangilerinin tamamı Karadeniz Bölgesinden sağlanır?

- A) I ve III B) II ve IV  
C) II ve III D) I ve IV  
E) III ve IV

37.



Yukarıdaki haritada gösterilen yerlerin hangisinde;

- Zeytin, üzüm ve incir tarımı yaygındır
- Turizm faaliyetleri gelişmiştir.
- Nüfus yoğunluğu fazladır.

özelliklerinin tamamı görülür?

- A) I B) II C) III D) IV E) V

38. Türkiye üç tarafı denizlerle çevrili bir ülke olmasına karşın tutulan balık miktarı çok düşüktür.

**Bu durumun nedenleri arasında**

- I. kıyıların yeterli olmaması
- II. açık deniz balıkçılığı yapılmaması
- III. kıyı kirlenmesi
- IV. zararlı avlanma yöntemlerinin kullanılması
- V. modern gemilerin olmaması

**faktörlerden hangisi etkili değildir?**

- A) I B) II C) III D) IV E) V

39. Türkiye'de tarım ürünlerinde yıllara göre dalgalanmalar görülmesinde aşağıdakilerden hangisi etkilidir?

- A) Ekim alanlarının değişmesi
- B) Tarım ürünlerini devlet kontrolü altında üretiminin yapılması
- C) İklimin kararsızlık göstermesi
- D) Bazı yıllarda hayvancılığa yönelmesi
- E) Ekim alanlarının Nadasa bırakılması

40. Türkiye'de nüfusun dağılışı coğrafi bölgelere göre farklılık gösterir.

**Bu durum, bölgelerin, aşağıdakilerden hangisi bakımından farklı olmasına bağlanmaz?**

- A) İklim koşulları
- B) Tarımsal etkinliklere elverişlilik
- C) Endüstri kuruluşlarının yoğunluğu
- D) Ulaşım şartları
- E) Yüz ölçümleri



41.

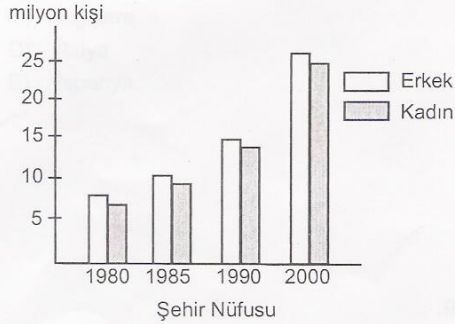


Konut yapımında; bitki örtüsünün zengin olduğu yerlerde ağaç, kurak yerlerde ise toprak kullanılır.

Buna göre haritada verilen yerlerin hangilerinde ağaçtan yapılmış evlere daha fazla rastlanır?

- A) I B) II C) III D) IV E) V

42.



Yukarıdaki grafikte Türkiye'de şehir nüfusu içinde kadın ve erkek nüfus miktarı gösterilmiştir.

Grafikteki bilgilere göre aşağıdakilerden hangisi söylenemez?

- A) Şehir nüfusu sürekli artmıştır  
 B) 1985 yılında şehirli nüfus toplamı 20 milyon'dan azdır.  
 C) Şehirli nüfus içinde en fazla pay Marmara Bölgesi'ne aittir.  
 D) Şehirli nüfus içinde erkeklerin oranı her zaman daha fazladır.  
 E) Şehirli nüfus içinde kadınların oranı 2000 yılında, 1980 yılına göre iki kattan fazla artmıştır.

43. Aşağıdakilerden hangisi Türkiye'nin deniz kıyısında yer alan coğrafi bölgelerinin ortak özelliği değildir?

- A) Birden fazla denize kıyılarının olması  
 B) Nüfusun daha çok kıyı kesimlerde toplanması  
 C) Deniz turizmine elverişli yerlerin olması  
 D) Tarım ürünlerinin çeşitlilik göstermesi  
 E) Dış alım ve dış satım limanlarının bulunması

44. Aşağıda verilen elektrik santrallerinin hangisinde kullanılan enerji kaynağı farklıdır?

- A) Hamitabat B) Yatağan  
 C) Gökova D) Soma  
 E) Afşin-Elbistan

45. Türkiye canlı bir transit ticarete sahiptir.

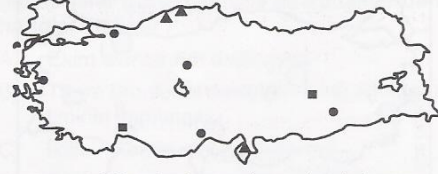
Ülkemizde transit ticaretin gelişmesinde rolü olmayan faktör aşağıdakilerden hangisidir?

- A) Asya ve Avrupa arasındaki en kısa kara ve demir yollarının ülkemizden geçmesi  
 B) Serbest ticaret bölgesine sahip olan limanlarımızın bulunması  
 C) Bütün komşularına ulaşan ve bu ülkeleri birbirine bağlayan kara ve demiryollarına sahip olması  
 D) Orta doğu ülkeleriyle Avrupa ülkeleri arasında, karayolu - denizyolu bütünleşmesini sağlaması  
 E) Ülkemizin kendine yeterli tarımsal ve endüstriyel üretime sahip olması

46. Aşağıdakilerden hangisi Türkiye'nin turizmdeki doğal (tabii) (Turzim) varlıklarından birisi **olamaz**?

- A) Türkiye'nin güneşli kıyılar ve plajlar ülkesi olması
- B) Türkiye'nin uluslararası önemde festivaller ve fuarlar ülkesi olması
- C) Türkiye'nin kaplıca, içme ve maden suları ülkesi olması
- D) Türkiye'nin nadir bitkiler ve kuşlar ülkesi olması
- E) Türkiye'nin kayakçılık ve dağcılık ülkesi olması

48.



Yukarıdaki haritada madene dayalı bazı sanayi tesislerinin kuruluş yerleri gösterilmiştir.

**Yurdumuzdaki madenlerin dağılışı dikkate alındığında, bu tesisler aşağıdakilerden hangisinde doğru olarak verilmiştir?**

- |    |             |                   |                   |
|----|-------------|-------------------|-------------------|
|    | ●           | ▲                 | ■                 |
| A) | Petrokimya  | Demir-çelik       | Ferro krom        |
| B) | Demir-çelik | Ferro krom        | Bakır işletmeleri |
| C) | Ferro krom  | Bakır işletmeleri | Demir-çelik       |
| D) | Petro kimya | Ferro krom        | Demir-çelik       |
| E) | Petro kimya | Termik santral    | Bakır işletmeleri |

47. Türkiye'deki demir yolları daha çok yük taşımacılığında kullanılır. Demir yolları ile taşınan yolcu sayısı daha azdır.

**Demir yollarının yolcu taşıma kapasitelerini artırmak için, aşağıdakilerden hangisi yapılması gereken çalışmalardan değildir?**

- A) Demir yollarını ve ulaşım araçlarını modernleştirmek
- B) Demir yolları ile ulaşımı hızlandırmak
- C) Demir yoluyla ulaşılan kent sayısını artırmak
- D) Demir yoluyla ulaşımı ucuzlatmak
- E) Transit ticarete önemli olan limanlarla demir yolu bağlantısı kurmak

49.

- I. Kişinin ergin olması
- II. Kişinin ayırt etme gücüne sahip olması
- III. Kişi hakkında mahkemece verilmiş bir kısıtlama kararının bulunmaması

**Fiil ehliyetine sahip olabilmek için bir kişinin yukarıdaki şartlardan hangisine ya da hangilerine sahip olması gerekir?**

- A) Yalnız I
- B) Yalnız II
- C) I ve II
- D) II ve III
- E) I, II ve III

50. Azınlık haklarını ve sivil toplumu gözeterek bunun için de çoğunluk iktidarını sınırlandıran demokrasi anlayışına ne ad verilir?

- A) Doğrudan demokrasi
- B) Çoğulcu demokrasi
- C) Yarı doğrudan demokrasi
- D) Temsili demokrasi
- E) Çoğunlukçu demokrasi

51. Aşağıdakilerden hangisi başkanlık sisteminin uygulandığı ülkelerden biridir?

- A) Türkiye
- B) Rusya
- C) İngiltere
- D) İtalya
- E) İspanya

52. Servet, vergi, öğrenim durumu ve cinsiyet gibi sınırlamalar olmaksızın bütün vatandaşların oy hakkına sahip olmasına ne ad verilir?

- A) Genel oy
- B) Eşit oy
- C) Gizli oy
- D) Serbest seçim
- E) Tek dereceli seçim

53. 1982 Anayasasına göre aşağıdakilerden hangisi görevinden çekilmeden milletvekilliğine aday olabilir?

- A) Memurlar
- B) Hakimler ve savcılar
- C) İşçiler
- D) YÖK üyeleri
- E) Yüksek öğretim kurumlarındaki öğretim elemanları

54. Aşağıdakilerden hangisi Türkiye Büyük Millet Meclisi'nin görevlerinden biridir?

- A) Sürekli hastalık, sakatlık ve kocama sebebi ile belirli kişilerin cezalarını hafifletmek veya kaldırmak
- B) Başbakanı atamak ve istifasını kabul etmek
- C) Yabancı devletlere Türk Devletinin temsilcilerini göndermek
- D) Genel ve özel af ilan etmek
- E) Devlet Denetleme Kuruluna inceleme, araştırma ve denetleme yaptırtmak

55. Cumhurbaşkanının tek başına yapabileceği işlemleri dışındaki bütün kararlarının Başbakan ve ilgili bakanca imzalanması ve kararlardan Başbakan ile ilgili bakanın sorumlu olmasına ne ad verilir?

- A) Ceza sorumluluğu
- B) Karşı imza kuralı
- C) Hukuki sorumluluk
- D) Elden imza kuralı
- E) Cezai sorumsuzluk

56. Aşağıdakilerden hangisi hakimlik ve savcılık teminatının özelliklerinden biri değildir?

- A) Hakimler ve savcılar azlolunamaz
- B) Hakimler ve savcılar kendileri istemedikçe 65 yaşından önce emekli edilemez
- C) Hakimler ve savcılar aylık ve ödeneklerinden yoksun bırakılamazlar
- D) Hakimler ve savcılar özlük haklarından yoksun bırakılamazlar
- E) Hakimler ve savcılarının görev yerleri değiştirilemez

57. Anayasaya göre Anayasa Mahkemesi Yüce Divan sıfatıyla aşağıdakilerden hangisini yargılayamaz?

- A) TBMM Başkanı
- B) Cumhurbaşkanı
- C) Yargıtay Cumhuriyet Başsavcısı
- D) Sayıştay Başkanı
- E) Hakimler ve Savcılar Yüksek Kurulu Üyeleri

58. Aşağıdakilerden hangisi Merkez Bankası'nın görevlerinden biri değildir?

- A) Hükümetle birlikte Türk Lirasının iç ve dış değerini korumak
- B) Mevduat ve vadeleri belirlemek
- C) Ülke altın ve döviz rezervlerini yönetmek,
- D) Ülkenin ekonomik her türlü kaynak ve olanaklarını saptamak
- E) Mali piyasaları izlemek

59. 2010 Kış Olimpiyatları hangi şehirde gerçekleştirilecektir?

- A) Atina
- B) Los Angeles
- C) Tokyo
- D) Vancouver
- E) Toronto

60. 2009 yılının ikinci yarısında Avrupa Birliği Dönem Başkanlığını yürüten ülke aşağıdakilerden hangisidir?

- A) Portekiz
- B) İspanya
- C) Yunanistan
- D) İsveç
- E) İngiltere

**KPSS GENEL YETENEK YANIT ANAHTARI**

1. B	21. C	41. E
2. A	22. E	42. A
3. D	23. A	43. B
4. A	24. E	44. D
5. E	25. B	45. E
6. B	26. C	46. D
7. A	27. A	47. D
8. D	28. C	48. B
9. D	29. D	49. A
10. E	30. A	50. A
11. E	31. A	51. C
12. E	32. C	52. A
13. C	33. D	53. A
14. D	34. C	54. B
15. E	35. C	55. C
16. A	36. C	56. E
17. C	37. D	57. E
18. A	38. B	58. D
19. B	39. A	59. C
20. D	40. D	60. B

**KPSS GENEL KÜLTÜR YANIT ANAHTARI**

1. C	21. E	41. A
2. D	22. E	42. C
3. B	23. E	43. A
4. B	24. E	44. A
5. A	25. C	45. E
6. B	26. A	46. B
7. C	27. E	47. E
8. C	28. E	48. A
9. A	29. E	49. E
10. A	30. C	50. B
11. A	31. D	51. B
12. D	32. B	52. A
13. A	33. E	53. C
14. B	34. C	54. D
15. <del>C</del>	35. C	55. B
16. B	36. D	56. E
17. D	37. A	57. A
18. E	38. A	58. D
19. B	39. C	59. D
20. B	40. E	60. D